




Alle Zahlen addieren.


Summe X =


Finale:

N 51°29.276+X


E 07°04.473-X

-  Der Start dieser Runde bildet ein Denkmal, in dessen Zentrum ein Spruch mit 3 Worten steht. Dieser Spruch ist mit Stuckblumen umgeben. Wie viele sind es?


-  An der nächsten Station findet ihr einen großen Kreis, in dessen Mittelpunkt ein Kunstwerk steht. Wie viele Kreuze sind daran zu erkennen?


-  Es geht weiter zu einer Gedenkstätte eines Grubenunglücks. Schau auf die Tafel am Boden. Wie viele Buchstaben hat das Wort in der ersten Reihe von oben?

 Nun folge dem angegebenen Weg, der führt dich zum einem weiteren Zeugnis der Bergbauvergangenheit.

-  Auch hier gibt es eine Gedenkplatte.
 Wie viele Buchstaben hat das vierte Wort von oben in der Inschrift?

 Nun geht es wieder auf den Weg, von diesem Teil des Friedhofs über die Straße zu anderen Teil.

-  Ihr gelangt zur nächsten Station mit einem steinernen Denkmal.
 Schaut hin, wie viele Hände könnt Ihr sehen?

-  Am schwarzen Stern ist die letzte Station.
 Wie viele Buchstaben haben die letzten zwei Wörter auf dem Gedenkstein?